













Tabellenrechnung I

1. Nach dem Drucken der aktuellen Bundesligatabelle ist dem Trainerteam der Eintracht Frankfurt aufgefallen, dass nicht alles mitgedruckt wurde. Kannst du ihnen helfen, die fehlenden Informationen zu berechnen?

Tipp: In jeder Zeile hat sich ein Fehler eingeschlichen.

			Spiele	Punkte	S	U	N	Tore	Diff
1	-	 FC Bayern München	25	55	17	4	4	73:26	
2	▲	 Borussia Dortmund	25	51	15	6	4	68:	+35
3	▼	 RB Leipzig	25	50		8	3	62:26	+36
4	▼	 Borussia Mönchengladbach	25	49	15	4	6	1:30	+19
5	-	 Bayer 04 Leverkusen	25	47	14		6	45:30	+15
6	-	 FC Schalke 04	25	37	9	10	6	33:	-3
7	-	 VfL Wolfsburg	25		9	9	7	34:30	+4
8	▲	 Sport-Club Freiburg	25	36	10	6		34:35	-1
9	▼	 TSG 1899 Hoffenheim	25		10	5	10	35:43	-8
10	▲	 1. FC Köln	25	32	10	2	13	39:45	
11	▼	 1. FC Union Berlin	25	30	9	3		32:41	-9
12	-	 Eintracht Frankfurt		28	8	4	12	38:41	-3

2. Wie viele Spieltage hat eine Saison (Hinrunde und Rückrunde), bei
- 20 Mannschaften
 - 18 Mannschaften
 - 16 Mannschaften
3. Wie viele Punkte hätte Bayern und der BVB, wenn sie alle verbleibenden Spiele (eine Saison hat 34 Spieltage) gewinnen?
4. Könnte Eintracht Frankfurt noch Meister werden? Wenn ja, was müsste hierfür passieren? Wie hoch schätzt du die Chancen (erkläre)?